












¿Cuántos leones, elefantes y monos hay?

Observa el dibujo.



A.	 → 	1	<u>2</u>	3	4	5
B.	 	1	2	3	4	5
C.	 → 	1	2	3	4	5
D.	 → 	1	2	3	4	5
E.	 → 	1	2	3	4	5

Fila **A** - Encierra el número de leones que hay en el círculo.

Fila **B** - Encierra el número de leones que no está en el círculo.

Fila **C** - Encierra el número de animales que hay en el círculo.

Fila **D** - Encierra el número de elefantes que hay en el rectángulo.

Fila **E** - Encierra el número de leones que hay en el rectángulo.