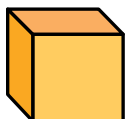


¡El mundo no es plano!

Este es un cuadrado:



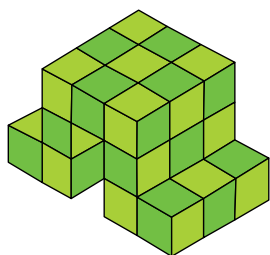
Si un artista añade algunas líneas, puede convertir el mismo cuadrado en un cubo:



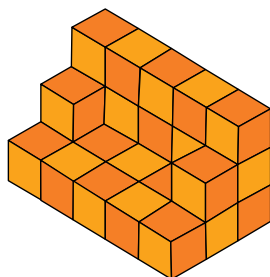
Ahora, la figura parece tener tres dimensiones.

Como un artista no puede mostrar todos los lados de las figuras, debe dibujarlas de tal manera que quien las mira pueda imaginar las partes que no se ven.

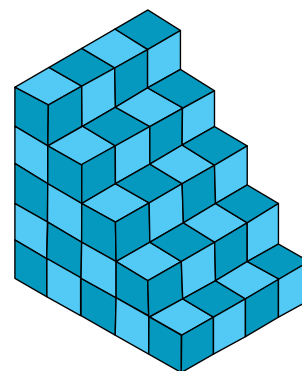
Examina con atención las siguientes ilustraciones. Escribe cuántos cubos representa cada ilustración.



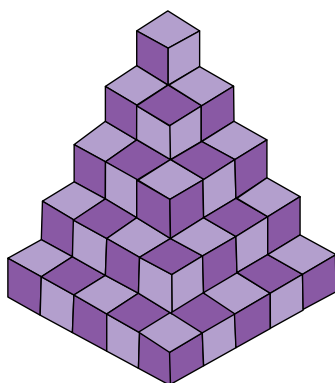
_____ cubos



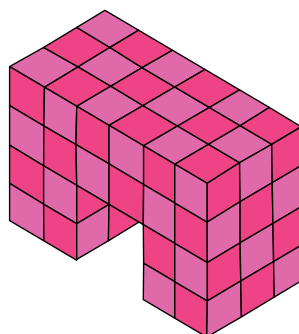
_____ cubos



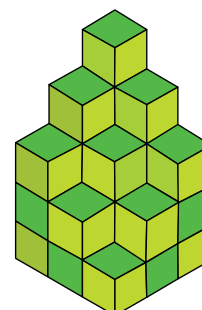
_____ cubos



_____ cubos



_____ cubos



_____ cubos