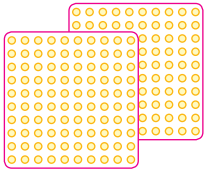


Centenas, decenas y unidades

Centenas, decenas y unidades
Adición y sustracción
con tres dígitos


10 decenas  = 100 unidades = 1 centena 

Escribe el número de centenas y el número de unidades.




2 centenas

200

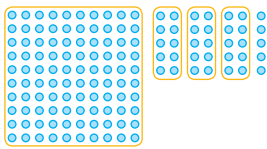


_____ centenas



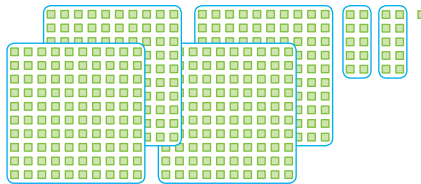
_____ centenas

Escribe el número de centenas, decenas y unidades. Después escribe el resultado de la suma.



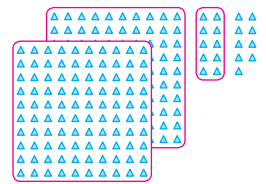
c	d	u

= _____



c	d	u

= _____



c	d	u

= _____

Escribe los números equivalentes a las centenas, decenas, unidades y el resultado.

2 c 6 d 5 u = 200 + 60 + 5 = 265

3 c 9 d 2 u = _____ + _____ + _____ = _____

5 c 0 d 7 u = _____ + _____ + _____ = _____

6 c 5 d 8 u = _____ + _____ + _____ = _____