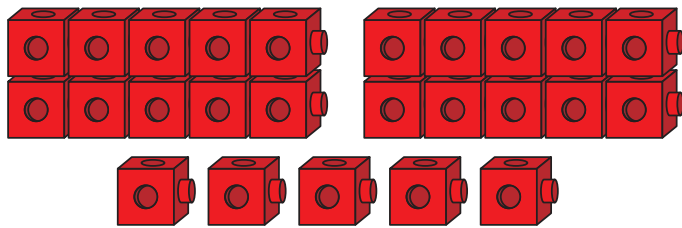
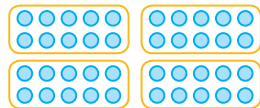


Decenas y unidades



2 decenas
5 unidades = 25

Escribe el número de decenas y unidades. Luego, escribe el número equivalente a las decenas y las unidades.



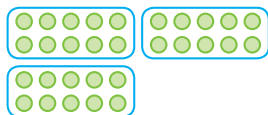
4 decenas 7 unidades = 47



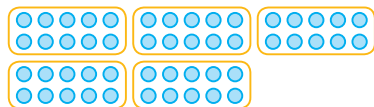
_____ decenas _____ unidades = _____




_____ decenas _____ unidades = _____



_____ decenas _____ unidades = _____



_____ decenas _____ unidades = _____



_____ decenas _____ unidades = _____