
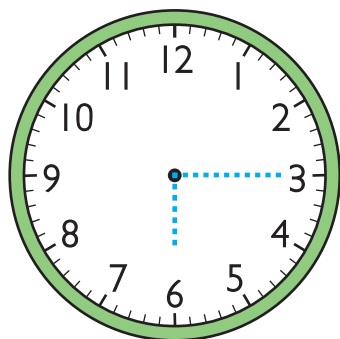


## Práctica con el tiempo: cuartos de hora

Con la ayuda del profesor vas a planificar el día de clases del grado primero. Dibuja las manecillas del reloj y escribe la hora.




Los niños tomarán el bus a las 6:15




Las 6 y 15 minutos

Llegarán al colegio a las 6:45




Las \_\_\_\_\_ y \_\_\_\_\_ minutos

A las 7:15 será la clase de gimnasia



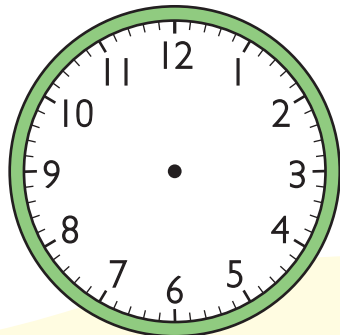
Las \_\_\_\_\_ y \_\_\_\_\_ minutos

Saldrán a descanso a las 10:30




Las \_\_\_\_\_ y media

La clase de dibujo será a las 11:45



Las \_\_\_\_\_ y \_\_\_\_\_ minutos

Finalizarán clases a las 12:30



Las \_\_\_\_\_ y \_\_\_\_\_ minutos