


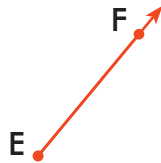
Rayos y ángulos




Un rayo es una parte de una recta. Tiene un punto extremo y se extiende indefinidamente. Se nombra primero por su punto extremo y luego por el otro punto. Este rayo es **AB**.

Nombra cada rayo.



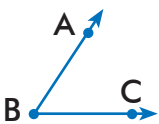




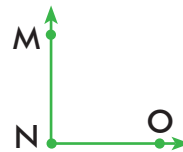




Un ángulo se forma por dos rayos con el mismo punto extremo. El extremo común es el vértice del ángulo. Un ángulo se puede nombrar de tres maneras.



Este ángulo es $\angle ABC$, $\angle CBA$ ó $\angle B$. El vértice se da en la mitad.



$\angle MNO$ es un ángulo rectángulo. Tiene un vértice cuadrado.

Nombra cada ángulo de tres maneras. Si el ángulo es recto, enciérralo.









