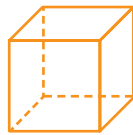


# Figuras sólidas

Las figuras geométricas sólidas tienen nombres especiales.



pirámide cuadrada



cubo



cono



cilindro



esfera



prisma rectangular


Clasifica cada objeto según su forma.



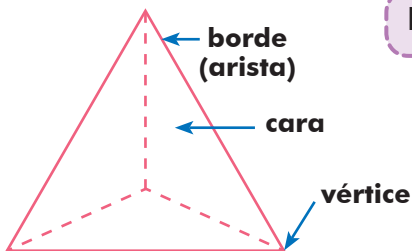












Las partes de algunos sólidos tienen nombres especiales.

Observa esta pirámide triangular.

- Las superficies planas son las caras.
- Las caras se cortan en los bordes (aristas).
- Los bordes se cortan en los vértices.

Escribe el número de caras, bordes y vértices que tiene cada forma.

<b>Caras</b>					
<b>Bordes</b>					
<b>Vértices</b>					